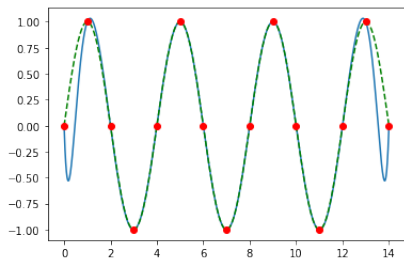
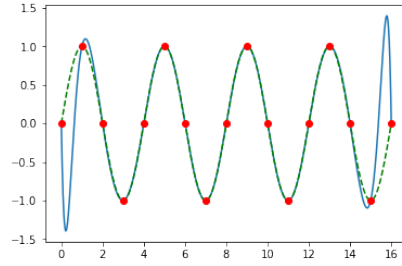


Úloha č. 3 – Základní operace s poli

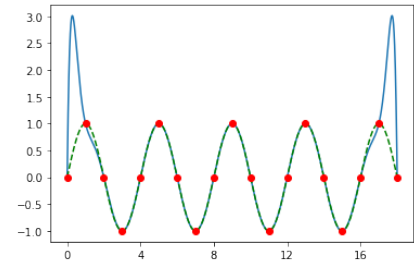
Podle výkladu dokončete kód ze cvičení do podoby, kdy pro zadané n namaluje příslušný seznam bodů, graf jimi proložený interpolační polynom a graf funkce $\sin(\pi x/2)$. Odevzdejte příslušný soubor `uloha3.py`.



$n = 14$



$n = 16$



$n = 18$